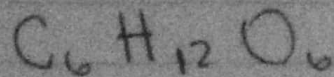


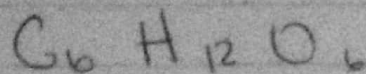
Tarea de Biología.

1) Escribe la fórmula de:

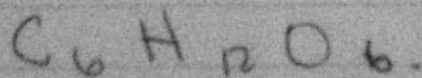
a) Glucosa:



b) Galactosa:



c) Fructosa:



Escribe en qué son iguales las 3 fórmulas y qué tienen de diferente.

Que todos tienen la misma fórmula que que cuenta con los mismos elementos y no tiene diferencias.

Katherine Baten.